

Всероссийская олимпиада школьников 2022-2023 учебный год  
Школьный этап. География

10-11 класс

Шифр участника 104

Теоретический тур

| № задания    | Ответ   | Кол-во баллов |
|--------------|---|---------------|
| 1            | АВЮГБ   | 1             |
| 2            | Б   | 1             |
| 3            | Черновский металлургический комбинат            | 1             |
| 4            | <del>Черновский металлургический комбинат</del> | 0             |
| 5            | Б   | 1             |
| 6            | Б   | 1             |
| 7            | В   | 1             |
| 8            | А   | 1             |
| 9            | Б   | 1             |
| 10           | Б   | 1             |
| 11           | Г   | 1             |
| 12           | А-4, Б-2, В-9, Г-5, Ю-3                         | 1             |
| 13           | В   | 1             |
| 14           | Б   | 1             |
| 15           | Г   | 1             |
| Всего баллов | 15  |               |

Практический тур

145

Задание № 1 (10 баллов)

| №            | Название туристического объекта | Страна нахождения туристического объекта | Количество баллов |
|--------------|---------------------------------|--|-------------------|
| 1.           | Гора Аризарктов                 | США.                                     | 2                 |
| 2.           | Мизанская Башня                 | Италия                                   | 2                 |
| 3.           | Бурда                           | Таиланд                                  | 2                 |
| 4.           | Мемориал Рикколье               | США.                                     | 2                 |
| 5.           | Ергаки                          | Россия.                                  | 2                 |
| Всего баллов |                                 |  |                   |

105

**Задание № 2 (10 баллов)**

| №  | Страна            | Количество лет |
|----|-------------------|----------------|
| 1. | Китай             | 11, 4          |
| 2. | Мексика           | 11, 7          |
| 3. | Бразилия          | 20, 4          |
| 4. | Ангола            | 22, 8          |
| 5. | Саудовская Аравия | 45, 3          |

105.

**Задание № 3 (10 баллов)**

|   |                                |
|---|--------------------------------|
| Напишите название области   | Белгородская область           |
| Назовите железорудный бассейн, сформировавшийся преимущественно на месторождениях железных руд, территориально приуроченных к этой области. | Курский магнитная аномалия 45. |
| Как называется комбинат по производству электростали, который работает в области?   | —                              |
| Каковы его технологические особенности?   | —                              |
| В каком городе находится данный комбинат?   | —                              |

**Задание № 4 (10 баллов)**

| №  | Вопрос  | Ответ  |
|----|---|--|
| 1. | В каком году был официально образован Европейский союз?                     | 1993 1   |
| 2. | Сколько стран входят в Европейский союз на 2022 г.?                         | 27 стран 2   |
| 3. | Какая страна вышла из Европейского Союза в 2020 г.?                         | Великобритания 2   |
| 4. | Перечислите страны, которые являются кандидатами в члены ЕС (не менее двух) | Албания, Турция, Сербия, Черногория, Северная Македония 48 |
| 5. | В какой стране находится штаб-квартира Европейского союза?                  | Бельгия 1  |

105.

**Задание № 5**

1.

Всероссийская олимпиада школьников 2022-2023 учебный год  
Школьный этап. География

| ОЭЗ                                    | Специализация  | Фактор размещения            | Расположение в федеральном округе |
|--|----------------|------------------------------|-----------------------------------|
| «Дубна»                                | Технологии     | Научоемкость                 | ЦФО                               |
| «Томск»                                | Технологии     | <i>Научоемкость</i>          | СФО                               |
| «Ворота Байкала»                       | <i>Туризм</i>  | Природно-ресурсный           | СФО                               |
| «Титановая долина»                     | Промышленность | Научоемкость, Ресурсоемкость | <i>УФО</i>                        |
| <i>Свердловская - а<br/>Кавказский</i> | Туризм         | Природно-ресурсный           | ЮФО                               |
| «Моглино» <i>Туризм</i>                | Промышленность | Приграничное положение       | СЗФО                              |

*85.*

Всероссийская олимпиада школьников 2022-2023 учебный год  
Школьный этап. География

*[Handwritten signature]*  
52

10-11 класс

Шифр участника 108

**Теоретический тур**

| № задания    | Ответ                    | Кол-во баллов |
|--------------|--------------------------|---------------|
| 1            | A, B, D, ГБ              | 1             |
| 2            | Б                        | 1             |
| 3            | -                        | 0             |
| 4            | Курбаки                  | 1             |
| 5            | Б                        | 1             |
| 6            | Б                        | 1             |
| 7            | В                        | 1             |
| 8            | А                        | 1             |
| 9            | Б                        | 1             |
| 10           | Б                        | 1             |
| 11           | Г                        | 1             |
| 12           | A-4, Б-2, В-7, Г-5, Д-3. | 1             |
| 13           | В                        | 1             |
| 14           | -                        | 0             |
| 15           | -                        | 0             |
| Всего баллов | 15                       |               |

*[Handwritten mark]*

**Практический тур**

**Задание № 1 (10 баллов)**

| №            | Название туристического объекта | Страна нахождения туристического объекта | Количество баллов |
|--------------|---------------------------------|--|-------------------|
| 1.           | Гора Рашмор, скалы президентов  | США.                                     | 25                |
| 2.           | Пизанская башня                 | Италия.                                  | 25                |
| 3.           | Будда                           | Ташкент.                                 | 25                |
| 4.           | Ленкорань                       | США.                                     | 25                |
| 5.           | Саяуи Саян                      | Египет.                                  | 25.               |
| Всего баллов |                                 |  | 105.              |

*[Handwritten mark]*

Всероссийская олимпиада школьников 2022-2023 учебный год  
Школьный этап. География

**Задание № 2 (10 баллов)**

| №  | Страна            | Количество лет |
|----|-------------------|----------------|
| 1. | Китай             | 11,4           |
| 2. | Алжир             | 11,7           |
| 3. | Бразилия          | 20,4           |
| 4. | Индия             | 22,8           |
| 5. | Саудовская Аравия | 75,3           |

105

**Задание № 3 (10 баллов)**

|   |                  |
|---|------------------|
| Напишите название области   | Белгородская 25  |
| Назовите железорудный бассейн, сформировавшийся преимущественно на месторождениях железных руд, территориально приуроченных к этой области. | -                |
| Как называется комбинат по производству электростали, который работает в области?   | -                |
| Каковы его технологические особенности?   | -                |
| В каком городе находится данный комбинат?   | Старый Оскол. 25 |

45

**Задание № 4 (10 баллов)**

| №  | Вопрос  | Ответ              |
|----|---|--------------------|
| 1. | В каком году был официально образован Европейский союз?                     | 1993 г. 1          |
| 2. | Сколько стран входят в Европейский союз на 2022 г.?                         | 27 2               |
| 3. | Какая страна вышла из Европейского Союза в 2020 г.?                         | Великобритания. 2  |
| 4. | Перечислите страны, которые являются кандидатами в члены ЕС (не менее двух) | Сербия, Босния. 26 |
| 5. | В какой стране находится штаб-квартира Европейского союза?                  | Бельгия. 15        |

**Задание № 5**

1.

Всероссийская олимпиада школьников 2022-2023 учебный год  
Школьный этап. География

| ОЭЗ   | Специализация  | Фактор размещения               | Расположение в федеральном округе |
|---|----------------|---------------------------------|-----------------------------------|
| «Дубна»   | Технологии     | Научоемкость                    | ЦФО                               |
| «Томск»   | Технологии     | Научоемкость.                   | СФО                               |
| «Ворота Байкала»  | Туризм.        | Природно-ресурсный              | СФО                               |
| «Титановая долина»  | Промышленность | Научоемкость,<br>Ресурсоемкость | УрФО.                             |
| Северо-кавказский<br>Федеральный округ<br>Туристический кластер | Туризм         | Природно-ресурсный              | ЮФО                               |
| «Моглино»   | Промышленность | Приграничное положение          | СЗФО                              |

8.

Всероссийская олимпиада школьников 2022-2023 учебный год  
Школьный этап. География

**БЛАНК ОТВЕТОВ**

**ТИТУЛЬНЫЙ ЛИСТ**

Шифр участника

Фамилия Пупков  
Имя Николай

Отчество Михайлович

Класс 8А

Сокращенное наименование образовательной организации (школы)

МБОУ Лицей №2

Всероссийская олимпиада школьников 2022-2023 учебный год  
Школьный этап. География

8 класс

Шифр участника

**Теоретический тур**

| № задания    | Ответ                    | Кол-во баллов |
|--------------|--------------------------|---------------|
| 1            | A                        | 1             |
| 2            | ВБАГ                     | 1             |
| 3            | B                        |               |
| 4            | Б                        | 1             |
| 5            | BA                       | 1             |
| 6            | Складчатые формы рельефа | 1             |
| 7            | Б А                      | 1             |
| 8            | А В Е Г                  | 1             |
| 9            | Б Г                      | 1             |
| 10           | Пролив Дрейка            | 1             |
| 11           | Б Б                      | 1             |
| 12           | Г В                      | 1             |
| 13           | 2 7 3 4                  | 1             |
| 14           | Б А                      | 1             |
| 15           | А В                      | 1             |
| Всего баллов | 15                       | 15            |

**Практический тур**

**Задание № 1 (10 баллов)**

Условие: <sup>2713</sup> 2733 км Широта - 28°N

---

Решение:  $2733 - (-28) = 2761$  м Ответ: 2741 м

<sub>2713      28</sub>

---



---



---

**Задание № 2 (10 баллов)**

1. Сев. Америка 2б

---

2. Аляска 2б

---

3. Коралловые 1б

---

4. Эмерсонские колонны или только тамбовоид с верх. слоем 1б

---

5. Зона аккумуляции и аккумулятивных форм 1б

---



Всероссийская олимпиада школьников 2022-2023 учебный год  
Школьный этап. География

Задание № 3 (10 баллов)

1. ~~Рельеф~~ ~~вечной мерзлоты~~ ~~Суровый климат~~ ~~многолетняя мерзлота~~
2. Замерзшая толстая вода, оттаивает летом и замерзает зимой
3. Сухость, порывистые ветры, низкая температура, из-за морозов ~~происходит расширение~~ ~~сжатия~~
4. Вода ~~покрывает в малых количествах~~ вода замерзает, расширяется и выталкивает землю, образуя трещины. морозное пучение.

Задание № 4 (10 баллов)

105

| Фото | Название            | Материк, на котором расположен | Количество баллов |
|------|---------------------|--------------------------------|-------------------|
| 1    | п-ов<br>Курш        | Евразия                        |                   |
| 2    | Апеннинский<br>п-ов | Евразия                        |                   |
| 3    | КАМЧАТКА            | Евразия                        |                   |
| 4    | Аляска              | Сев.Америка                    |                   |
| 5    | Южн. Калифорнийский | Сев.Америка                    |                   |



Всероссийская олимпиада школьников 2022-2023 учебный год  
Школьный этап. География

**БЛАНК ОТВЕТОВ**  
**ТИТУЛЬНЫЙ ЛИСТ**

Шифр участника

Фамилия Ходякина

Имя Екатерина

Отчество Алексеевна

Класс 8В

Сокращенное наименование образовательной организации (школы)

МБОУ лицей №2

Всероссийская олимпиада школьников 2022-2023 учебный год  
Школьный этап. География

8 класс

Шифр участника

**Теоретический тур**

| № задания    | Ответ           | Кол-во баллов |
|--------------|-----------------|---------------|
| 1            | A               | 1             |
| 2            | BBAГ            | 1             |
| 3            | B               | 1             |
| 4            | B               | 1             |
| 5            | A               | 1             |
| 6            | Складчатые горы | 1             |
| 7            | B               | 1             |
| 8            | A Г B           | 1             |
| 9            | Г               | 1             |
| 10           | Трансв Дрейка   | 1             |
| 11           | B               | 1             |
| 12           | B               | 1             |
| 13           | A2; B1; B3; Г4  | 1             |
| 14           | A               | 1             |
| 15           | B               | 1             |
| Всего баллов | 15              | 15            |

150

**Практический тур**

**Задание № 1 (10 баллов)**

Высота истока Терека = 2713 м, высота устья = -28 м. Вычитаем высоту устья из высоты истока получаем падение реки:  $2713 - (-28) = 2741$  м. = падение реки  
 Ответ: 2,741 м. 28

**Задание № 2 (10 баллов)**

- Северная Америка 28
- Полуостров Кенай находится на южном побережье Аляски. 28
- Складчатые горы
- метаморфизм
- Тундра и Арктические пустыни 15

Всероссийская олимпиада школьников 2022-2023 учебный год  
Школьный этап. География

**Задание № 3 (10 баллов)**

1. Полномасштабно-живильный рельеф 25
2. Метеорологические. Многолетняя мерзлота
3. 1. Подземная поверхность. 2. Географическая широта; 3. Влияние дрифтовых вод. Резко-континентальный климат  
15
4. деятельность текучих вод

**Задание № 4 (10 баллов)**

105

| Фото | Название                      | Материк, на котором расположен | Количество баллов |
|------|-------------------------------|--------------------------------|-------------------|
| 1    | Крайский п-ов                 | Евразия                        | 2                 |
| 2    | Апеннинский полуостров        | Евразия                        | 2                 |
| 3    | Камчатский п-о                | Евразия                        | 2                 |
| 4    | Аляска                        | Евразия                        | 2                 |
| 5    | <del>Флорида</del> Калифорния | Северная Америка               | 2                 |

Всероссийская олимпиада школьников 2022-2023 учебный год  
Школьный этап. География

БЛАНК ОТВЕТОВ  
ТИТУЛЬНЫЙ ЛИСТ

Шифр участника

Фамилия Алтыенкова

Имя Екатерина

Отчество Владимировна

Класс 11 Б

Сокращенное наименование образовательной организации (школы)

МБОУ Лицей №2

Всероссийская олимпиада школьников 2022-2023 учебный год  
Школьный этап. География

10-11 класс

Шифр участника

## Теоретический тур

| № задания    | Ответ   | Кол-во баллов |
|--------------|---|---------------|
| 1            | А В А Г Б   | 1             |
| 2            | Б   | 1             |
| 3            | Череповецкий металлург-<br>исследовательский комбинат | 1             |
| 4            | Кузнецкий   | 1             |
| 5            | Ю Б   | 1             |
| 6            | Б   | 1             |
| 7            | В   | 1             |
| 8            | А   | 1             |
| 9            | Б   | 1             |
| 10           | Г   | 0             |
| 11           | Г   | 1             |
| 12           | А-4; Б-2; В-7; Г-5; Д-3                               | 1             |
| 13           | Б   | 0             |
| 14           | Б   | 1             |
| 15           | Г   | 1             |
| Всего баллов | 15  |               |

135

## Практический тур

Задание № 1 (10 баллов)

| №            | Название туристического объекта | Страна нахождения туристического объекта | Количество баллов |
|--------------|---------------------------------|--|-------------------|
| 1.           | Ралленор                        | США                                      | 2                 |
| 2.           | Тизанская<br>баллема            | Италия                                   | 2                 |
| 3.           | Большой<br>Будда                | Тайланд                                  | 2                 |
| 4.           | Станция<br>Авраама<br>Лейкакина | США                                      | 2                 |
| 5.           | Станция Саян                    | Россия                                   | 2                 |
| Всего баллов |                                 |  |                   |

105

Всероссийская олимпиада школьников 2022-2023 учебный год  
Школьный этап. География

Задание № 2 (10 баллов)

| №  | Страна            | Количество лет |
|----|-------------------|----------------|
| 1. | Китай             | 11,4           |
| 2. | Мексика           | 11,7           |
| 3. | Бразилия          | 20,4           |
| 4. | Англия            | 22,8           |
| 5. | Саудовская Аравия | 75,3           |

50

Задание № 3 (10 баллов)

|   |   |   |
|---|---|---|
| Напишите название области   | Белгородская обл.                                 | 2 |
| Назовите железорудный бассейн, сформировавшийся преимущественно на месторождениях железных руд, территориально приуроченных к этой области. | КМА   | 2 |
| Как называется комбинат по производству электростали, который работает в области?   | Стар. Оскол<br>электрометаллургический<br>кабинет | 1 |
| Каковы его технологические особенности?   | Безоxygenная                                      | 2 |
| В каком городе находится данный комбинат?   | Стар. Оскол                                       | 2 |

9

Задание № 4 (10 баллов)

| №  | Вопрос  | Ответ   |
|----|---|---|
| 1. | В каком году был официально образован Европейский союз?                     | 1993г   |
| 2. | Сколько стран входят в Европейский союз на 2022 г.?                         | 27  |
| 3. | Какая страна вышла из Европейского Союза в 2020 г.?                         | Великобритания  |
| 4. | Перечислите страны, которые являются кандидатами в члены ЕС (не менее двух) | Турция, Грузия, Молдавия<br>Албания, Северная Македония, Сербия |
| 5. | В какой стране находится штаб-квартира Европейского союза?                  | Бельгия   |

15

25

25

15

100

Задание № 5

1.



Всероссийская олимпиада школьников 2022-2023 учебный год  
Школьный этап. География

| ОЭЗ                | Специализация  | Фактор размещения             | Расположение в федеральном округе |
|--------------------|----------------|-------------------------------|-----------------------------------|
| «Дубна»            | Технологии     | Научоемкость                  | ЦФО                               |
| «Томск»            | Технологии     | Научноемкость                 | СФО                               |
| «Ворота Байкала»   | Промышленность | Природно-ресурсный            | СФО                               |
| «Титановая долина» | Промышленность | Научноемкость, Ресурсоемкость | Уральский ФО (ЧР)                 |
| «Европейский ЮЗ»   | Туризм         | Природно-ресурсный            | ЮФО                               |
| «Моглино»          | Промышленность | Приграничное положение        | СЗФО                              |

65

Всероссийская олимпиада школьников 2022-2023 учебный год  
Школьный этап. География

БЛАНК ОТВЕТОВ

ТИТУЛЬНЫЙ ЛИСТ

Шифр участника

Фамилия

Лобушкин

Имя

Александр

Отчество

Александрович

Класс

11Б

Сокращенное наименование образовательной организации (школы)

МБОУ лицей №2

Всероссийская олимпиада школьников 2022-2023 учебный год  
Школьный этап. География

10-11 класс

Шифр участника

## Теоретический тур

| № задания    | Ответ                   | Кол-во баллов |
|--------------|-------------------------|---------------|
| 1            | БТДВА                   | 0             |
| 2            | Б                       | 1             |
| 3            | Челюскин                | 1             |
| 4            | Кузнецкий узкоколейный  | 1             |
| 5            | Б                       | 1             |
| 6            | Ф                       | 1             |
| 7            | В                       | 1             |
| 8            | А                       | 1             |
| 9            | В                       | 1             |
| 10           | Ф                       | 1             |
| 11           | А                       | 0             |
| 12           | А-4; Б-2; В-3; Г-4; Д-3 | 1             |
| 13           | В                       | 1             |
| 14           | Ф                       | 1             |
| 15           | Ф                       | 1             |
| Всего баллов | 15                      |               |

## Практический тур

135

Задание № 1 (10 баллов)

| №            | Название туристического объекта | Страна нахождения туристического объекта | Количество баллов |
|--------------|---------------------------------|--|-------------------|
| 1.           |                                 | США                                      | 1                 |
| 2.           | Тизанская Башня                 | (Италия)                                 | 2                 |
| 3.           | Большой Будда                   | (Тайланд)                                | 2                 |
| 4.           |                                 | США                                      | 1                 |
| 5.           | Священный Саян                  | РФ                                       | 2                 |
| Всего баллов |                                 |  |                   |

86

Всероссийская олимпиада школьников 2022-2023 учебный год  
Школьный этап. География

Задание № 2 (10 баллов)

| №  | Страна            | Количество лет |
|----|-------------------|----------------|
| 1. | Китай             | 11,4           |
| 2. | Мексика           | 17,7           |
| 3. | Бразилия          | 20,4           |
| 4. | Индия             | 22,8           |
| 5. | Саудовская Аравия | 45,3           |

100

Задание № 3 (10 баллов)

|   |                  |
|---|------------------|
| Напишите название области   | Бороченская обл. |
| Назовите железорудный бассейн, сформировавшийся преимущественно на месторождениях железных руд, территориально приуроченных к этой области. | К.И.А            |
| Как называется комбинат по производству электростали, который работает в области?   | —                |
| Каковы его технологические особенности?   | —                |
| В каком городе находится данный комбинат?   | Старый Оскол     |

25

25 (100)

Задание № 4 (10 баллов)

| №  | Вопрос  | Ответ   |
|----|---|---|
| 1. | В каком году был официально образован Европейский союз?                     | 1993 г.   |
| 2. | Сколько стран входят в Европейский союз на 2022 г.?                         | 27  |
| 3. | Какая страна вышла из Европейского Союза в 2020 г.?                         | Великобритания  |
| 4. | Перечислите страны, которые являются кандидатами в члены ЕС (не менее двух) | Узбекистан, Турция, Северная Македония, Албания, Черногория |
| 5. | В какой стране находится штаб-квартира Европейского союза?                  | Бельгия   |

100

Задание № 5

1.

Всероссийская олимпиада школьников 2022-2023 учебный год  
Школьный этап. География

| ОЗЗ                  | Специализация  | Фактор размещения            | Расположение в федеральном округе  |
|----------------------|----------------|------------------------------|------------------------------------|
| «Дубна»              | Технологии     | Научоемкость                 | ЦФО                                |
| «Томск»              | Технологии     | <i>Научноемкость</i>         | СФО                                |
| «Ворота Байкала»     | <i>Туризм</i>  | Природно-ресурсный           | СФО                                |
| «Титановая долина»   | Промышленность | Научоемкость, Ресурсоемкость | <i>Уральский федеральный округ</i> |
| <del>«Иркутск»</del> | Туризм         | Природно-ресурсный           | ЮФО                                |
| «Моглино»            | Промышленность | Приграничное положение       | СЗФО                               |

65

Всероссийская олимпиада школьников 2022-2023 учебный год  
Школьный этап. География

**БЛАНК ОТВЕТОВ**

**ТИТУЛЬНЫЙ ЛИСТ**

Шифр участника

Фамилия Писун  
Имя Ульяна

Отчество Игоревна

Класс 9B

Сокращенное наименование образовательной организации (школы)

МБОУ Лицей №2

Всероссийская олимпиада школьников 2022-2023 учебный год  
Школьный этап. География

Шифр участника




**Теоретический тур**





| № задания    | Ответ          | Кол-во баллов |
|--------------|----------------|---------------|
| 1            | 2              | 1             |
| 2            | 1              | 1             |
| 3            | 3              | 0             |
| 4            | 2              | 1             |
| 5            |                | 0             |
| 6            | 1:50           | 1             |
| 7            | 5              | 1             |
| 8            | 2              | 1             |
| 9            | 3              | 0             |
| 10           | B              | 1             |
| 11           | 461325         | 0             |
| 12           | A1; B3; B2; Г4 | 1             |
| 13           | 2              | 1             |
| 14           | 2              | 1             |
| 15           | 1              | 1             |
| Всего баллов |                | 16            |

**Практический тур**

Задание № 1

75

| № на карте | Фотография географического объекта  | Самый (ая)                    | Название        |
|------------|---|-------------------------------|-----------------|
| 1          |  | Самая высокая гора в России.  | Эльбрус         |
| 2          |  | Глубочайшее озеро в мире.     | Байкал          |
| 3          |  | Самое большое озеро на Земле. | Каспийское море |

|   |   |                          |                                  |
|---|---|--------------------------|----------------------------------|
| 4 |    | Самая длинная.           | Чена                             |
| 5 |    | Самый плодородный        | Енисей                           |
| 6 |   | Самая<br>Большая.        | Восточно-Европейская низменность |
| 7 |  | Самая низкая<br>челюсть. | прикаспийская<br>низменность     |

**Задание № 2**

Дома на сваях всегда строят в болотистых местностях. Например, в Ленинградской области или в районах Крайнего Севера там вечная мерзлота, она и не позволяет строить на обычных фундаментах. Свайный фундамент намного дешевле прочих бетонной плитой. Также этот фундамент без проблем монтируется на склонах (с большим перепадом высот). Здание из свайного фундамента не страшно высоким уровнем грунтовых вод. Также свайный фундамент применяют в челяе стеновым фундаментам.

(45)

**Задание № 3**

Водная эрозия - разрушение почвенного покрова под действием поверхностных водных потоков.

Причины: осадки, талые воды, таяние снега, техногенные изменения ландшафта, сток.

1. Из-за осадков, повышается водная эрозия, в результате этого почвенный покров разрушается. Это много для сельского и рекреационного мира.

75



2. Из-за гашения снега, снег тает, и талые, тая и от осадков идут поверхностные (поверх). Частицы эродированно грунта попадают в подземные воды, и вместе с химическим состав, уменьшают концентрацию кислорода.
3. При повышенной влажности воздуха под воздействием естественной по ширине гашу и дождевую воду на поверхности образуются мелкие струйки росы.

#### Задание № 4

- 1) Минимальная и максимальная доля детей и подростков показана на рисунке 1. Минимальная и максимальная доля населения старше трудоспособного возраста показана на рисунке 2.
- 2) Молодые поколения стремятся переехать в более современные города. В то время как пожилые люди в большинстве остаются в местах своего рождения. Так, например, Чита и Тольятти менее населены детьми и подростками, чем Москва и т.д.

#### Задание № 5

- 1) Какие страны обозначены цифрами? 125
- 1 - Финляндия  
2 - Польша  
3 - Иран  
4 - Узбекистан  
5 - Китай
- 2) Какие из них являются для России странами-соседями второго порядка?

Иран, Узбекистан

- 3) Напишите названия столиц указанных на карте стран. За каждый правильный ответ

1 балл.

- 1 - Хельсинки  
2 - Варшава  
3 - Тегеран  
4 - Ташкент  
5 - Пекин

Итого за задание 12 баллов.

Всероссийская олимпиада школьников 2022-2023 учебный год  
Школьный этап. География

БЛАНК ОТВЕТОВ

ТИТУЛЬНЫЙ ЛИСТ

Шифр участника

Фамилия Коробцова  
Имя Анастасия

Отчество Романовна

Класс 9 "В"

Сокращенное наименование образовательной организации (школы)

МБОУ Лицей №2

Всероссийская олимпиада школьников 2022-2023 учебный год  
Школьный этап. География

Шифр участника




**Теоретический тур**

| № задания    | Ответ            | Кол-во баллов |
|--------------|------------------|---------------|
| 1            | 2                | 1             |
| 2            | 1                | 1             |
| 3            | 3                | 0             |
| 4            | 2                | 1             |
| 5            | 3                | 1             |
| 6            | 1: 5 0 0 0 0 0 0 | 1             |
| 7            | 5                | 1             |
| 8            | 2                | 1             |
| 9            | 1                | 1             |
| 10           | B                | 1             |
| 11           | 451325           |               |
| 12           | A1 B3 B2 Г4      | 1             |
| 13           | 2                | 1             |
| 14           | 2                | 1             |
| 15           | 1                | 1             |
| Всего баллов |                  | 135           |




**Практический тур**

Задание № 1

75

| № на карте | Фотография географического объекта  | Самый (ая)    | Название        |
|------------|---|---------------|-----------------|
| 1          |  | Высокая       | г. Эльбрус      |
| 2          |  | Глубокая      | о. Байкал       |
| 3          |  | Большое озеро | Каспийское море |

Всероссийская олимпиада школьников 2022-2023 учебный год  
Школьный этап. География

|   |   |                    |                                     |
|---|---|--------------------|-------------------------------------|
| 4 |    | Самая длинная      | Ляка                                |
| 5 |    | Полноводная        | Енисей                              |
| 6 |   | Низкая             | Прикаспийская<br>низменность        |
| 7 |  | Большая<br>равнина | Восточно-<br>Европейская<br>равнина |

**Задание № 2**

Дома на сваях строят около водоемов или в горной местности. Т.к. в случае повышения уровня воды, его не затопит, а также если можно сделать разной длиной, чтобы разница высот в доме была незаметна.

58

**Задание № 3**

Причины:

1.

2. \_\_\_\_\_  
\_\_\_\_\_  
\_\_\_\_\_
3. \_\_\_\_\_  
\_\_\_\_\_  
\_\_\_\_\_

**Задание № 4**

- 1) Минимальная и максимальная доля детей и подростков показана на рисунке №2. Минимальная и максимальная доля населения старше трудоспособного возраста показана на рисунке №1.
- 2) Молодое поколение стремится перебраться в более современные города, в то время как пожилые люди в большинстве остаются в местах своего рождения. Так, например, Чехия и Тыва менее населены детьми и подростками, чем Москва, Санкт-Петербурга и т.д.

**Задание № 5**

- 1) Какие страны обозначены цифрами? 125
- 1 - Финляндия
  - 2 - Польша
  - 3 - Иран
  - 4 - Узбекистан
  - 5 - Китай
- 2) Какие из них являются для России странами-соседями второго порядка?  
Иран, Узбекистан
- 3) Напишите названия столиц указанных на карте стран. За каждый правильный ответ 1 балл.
- 1 - Хельсинки
  - 2 - Варшава
  - 3 - Тегеран
  - 4 - Ташкент
  - 5 - Пекин

**Итого за задание 12 баллов.**

**БЛАНК ОТВЕТОВ**  
**ТИТУЛЬНЫЙ ЛИСТ**

Шифр участника

Фамилия Логинов

Имя Егор

Отчество Сергеевич

Класс 9 В

Сокращенное наименование образовательной организации (школы)

МБОУ Лицей № 2

Всероссийская олимпиада школьников 2022-2023 учебный год  
Школьный этап. География

Шифр участника

**Теоретический тур**




| № задания    | Ответ            | Кол-во баллов |
|--------------|------------------|---------------|
| 1            | 2                | 1             |
| 2            | 1                | 1             |
| 3            | 3                | 0             |
| 4            | 2                | 1             |
| 5            | 3                | 1             |
| 6            | 1 : 5000 000     | 1             |
| 7            | 5                | 1             |
| 8            | 2                | 1             |
| 9            | 1                | 1             |
| 10           | В 3              | 1             |
| 11           | 4, 6, 1, 3, 2, 5 | 0             |
| 12           | А1 Б3 В2 Г4      | 1             |
| 13           | 2                | 1             |
| 14           | 2                | 1             |
| 15           | 1                | 1             |
| Всего баллов |                  | 13            |

13

**Практический тур**

Задание № 1

78

| № на карте | Фотография географического объекта  | Самый (ая)            | Название        |
|------------|---|-----------------------|-----------------|
| 1          |  | Высокая               | Эльбрус         |
| 2          |  | Глубокое озеро в мире | Байкал          |
| 3          |  | Самое большое озеро   | Каспийское море |

Всероссийская олимпиада школьников 2022-2023 учебный год  
Школьный этап. География

|   |   |   |                                     |
|---|---|---|-------------------------------------|
| 4 |    | Самая длинная                           | Лена                                |
| 5 |    | Самой<br>полноводной                    | Енисей                              |
| 6 |   | Самая<br>Большая или<br>широкая         | Восточно-<br>Европейская<br>равнина |
| 7 |  | <del>Азиатская</del><br>Самая<br>низкая | Прикаспий-<br>ская<br>низменность   |

45

Задание № 2

Дома со сваями в России строят у водоемов. Сваям не страшен паводок или высокий уровень грунтовых вод, свайное покрытие значительно дешевле других и легко в установке на любом участке поверхности.

45

Задание № 3

25

ветренность и водка.

Водная эрозия - разрушение почвы под влиянием ~~ветра~~ <sup>ветренности и водки</sup> процесса

Причины: \_\_\_\_\_

- \_\_\_\_\_
- \_\_\_\_\_
- \_\_\_\_\_



2. \_\_\_\_\_  
\_\_\_\_\_  
\_\_\_\_\_

3. \_\_\_\_\_  
\_\_\_\_\_  
\_\_\_\_\_

**Задание № 4**

- 1) Минимальная и максимальная доля детей и подростков показана на рисунке 1. Минимальная и максимальная доля населения старше трудоспособного возраста показана на рисунке 2. <sup>10</sup>
- 2) Такие регионы как: Голва, Чехия, Ингушетия и Алтай не так развиты как регионы западной России. Подростки пытаются уехать в более развитые города и регионы для получения образования и высокооплачиваемой работы. Пожилые люди в молодости скорее всего способствовали развитию регионов Сибири и остаются жить там и по сей день. Ведь там у них есть всё. <sup>10</sup>

**Задание № 5**

- 1) Какие страны обозначены цифрами?
- 1 - <sup>50</sup> Швейцария
  - 2 - Польша
  - 3 - Иран
  - 4 - Узбекистан
  - 5 - КНР
- 2) Какие из них являются для России странами-соседями второго порядка?
- Узбекистан, Иран <sup>20</sup>
- 3) Напишите названия столиц указанных на карте стран. За каждый правильный ответ 1 балл.
- 1 - Хельсинки
  - 2 - Варшава
  - 3 - Тегеран
  - 4 - Ташкент
  - 5 - Пекин

Итого за задание 12 баллов.

290